

Date :

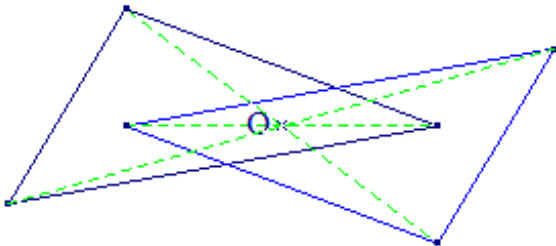
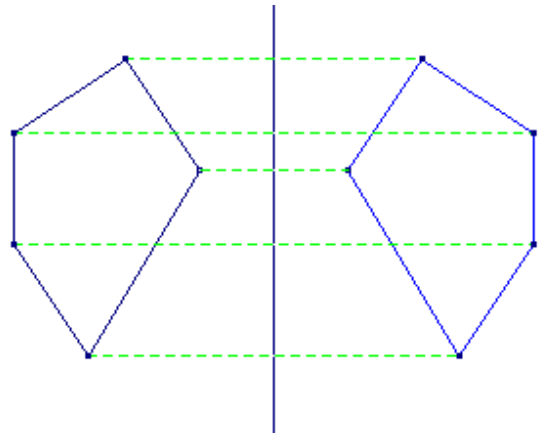
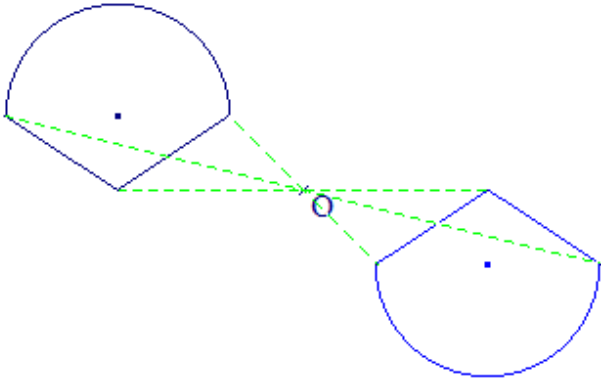
Nom :

Prénom :

① Complète les titres des deux colonnes suivantes, puis construis les symétriques de chaque figure en utilisant les instruments de géométrie.

Symétrie par rapport au point O
ou symétrie **centrale**

Symétrie par rapport à la droite (d)
ou symétrie **axiale**



② Construis les symétriques de chaque figure par rapport au point O en utilisant le quadrillage.

